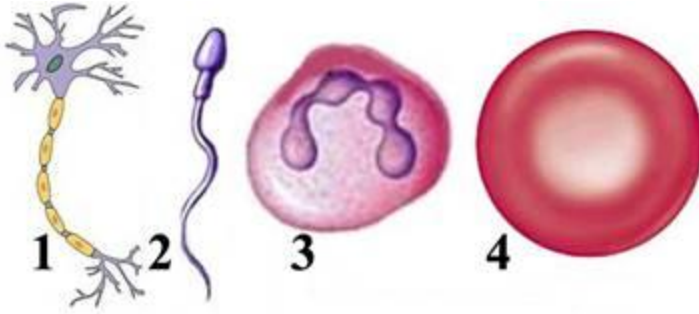
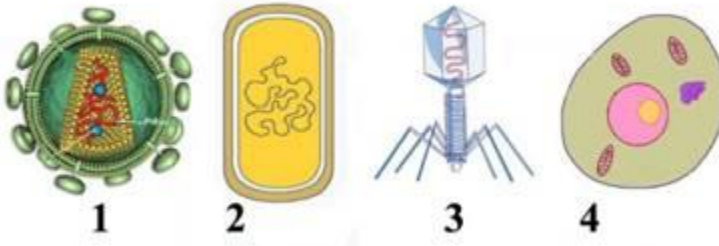


1. Şəkildə eritrosit hansı rəqəmlə qeyd olunub?



- ə) 1      b) 2      c) 3      d) 4

2. Bakteriofaq hansı rəqəmlə qeyd olunub?



- ə) 1      b) 2      c) 3      d) 4

3. Şəkildə hüceyrənin hansı orqanoidi verilib?



- ə) Endoplazmatik şəbəkə      b) Ribosom  
c) Mitoxondri      d) Xloroplast

4. Şəkildə hansı hüceyrə verilib?



ə) Bitki

ə) Heyvan

ə) Bakteriya

ə) Göbələk

5. Şəkildə hansı hüceyrə verilib?



ə) Bitki

ə) Heyvan

ə) Bakteriya

ə) Göbələk

6. Zülalın sintezi hansı hüceyrə orqonoidlərində baş verir:

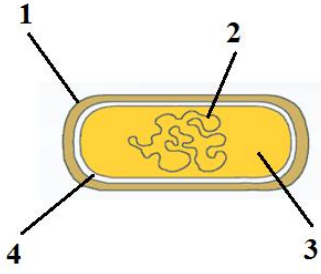
ə) Ribosomada

ə) Hüceyrə mərkəzində

ə) Lizosomda

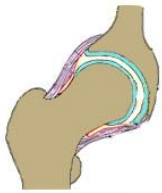
ə) Holci aparatında

7. DNT hansı rəqəmlə qeyd olunub?

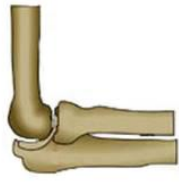


- ə) 1      б) 2      в) 3      г) 4

8. Şəkildə hansı sümüklər hərəkətsiz birləşib?



1



2



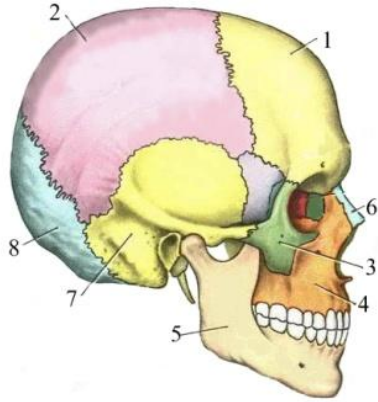
3



4

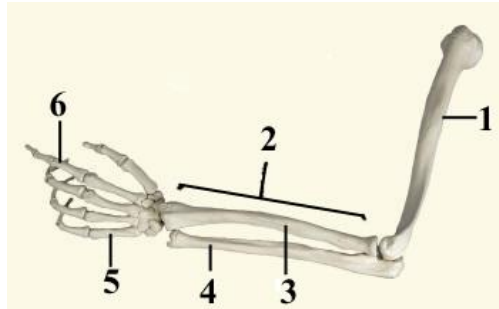
- ə) 1      б) 2      в) 3      г) 4

9. Kəllədə hansı sümük cütüdür?



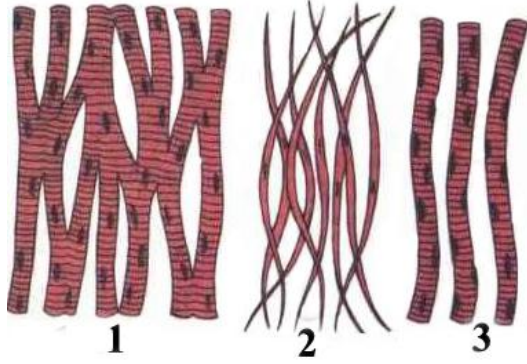
- ə) 1      b) 2      d) 5      e) 8

10. Bazu sümüyü hansı rəqəmlə qeyd olunub?



- ə) 1      b) 2      d) 3      e) 4

11. Şəkildə hansı toxuma verilib?



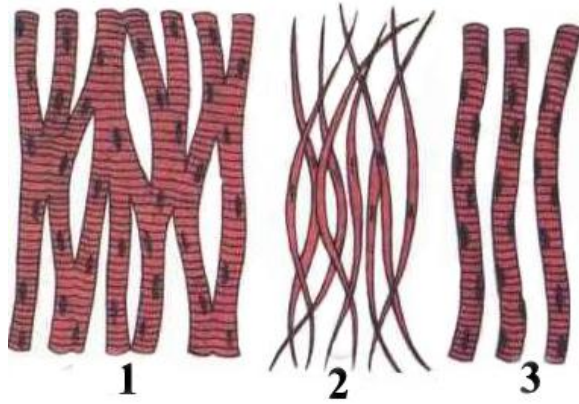
ə) Epitel

ə) Birləşdirici

ə) Əzələ

ə) Sınır

12. Skeletin eninəzolaqlı əzələsi hansıdır?



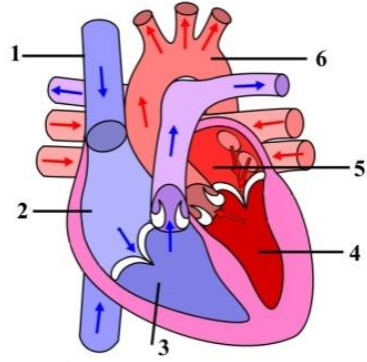
ə) yalnız 1

ə) yalnız 2

ə) yalnız 3

ə) 1 və 3

13. Şəkildə sağ qulaqcıq hansı rəqəmlə qeyd olunub?



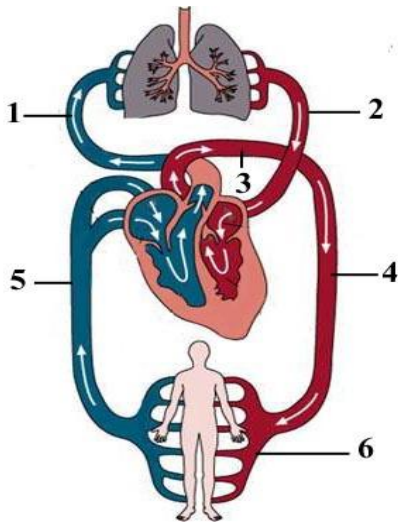
ə) 2

ə) 3

ə) 4

ə) 5

14. Hansı rəqəmlə qeyd olunmuş qan-damarları böyük qan dövrəsinə məxsusdur?



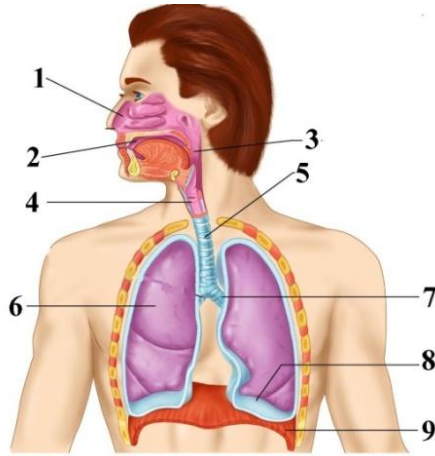
ə) 1 və 2

ə) 2 və 4

ə) 1 və 5

ə) 5 və 6

15. Diafraqma hansı rəqəmlə qeyd olunub?



- ə) 3      b) 4      d) 5      e) 9

16. Qıcıqlanma, hansı ki, ürəyin yığılmasına səbəb olur harada əmələ gəlir?

- ə) Uzunsov beyində      b) Ürəkdə  
d) Baş beyin qabığında      e) Orta beyində

17. Hansı qan-damarlarının qapaqları vardır?

I - arteriyaların      II - venaların

- ə) I      b) II      d) Hər ikisinin      e) Heç birinin

18. Sadalanan vəzilərdən hansı adrenalın ifraz edir?

- ə) Mədəaltı      b) Böyrəküstü  
d) Qalxanabıncıq      e) Qara ciyər

19. Hüceyrənin hansı orqanoidinin membranı yoxdur?

ə) Mitoxondrinin

ə) Lizosomanın

ə) Ribosomun

ə) Xloroplastın

20. Tarazlığı requlyasiya edir:

ə) Beyincik

ə) Uzunsov beyin

ə) Orta beyin

ə) Ara beyin

	1	2	3	4	5	6	7	8	9	10	11	12	13	14	15	16	17	18	19	20
ə			X	X		X				X										X
ə							X		X				X			X	X	X		
ə		X			X						X	X							X	
ə	X							X						X	X					