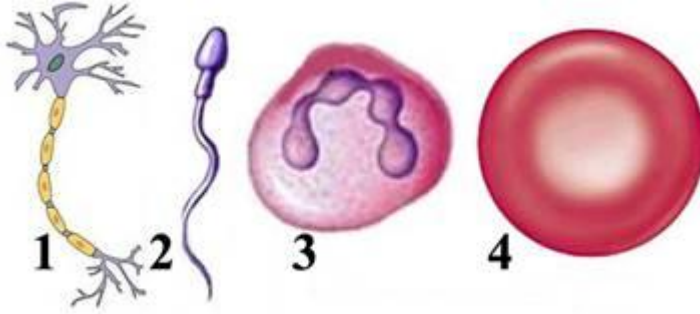


1. Какой цифрой обозначен эритроцит?



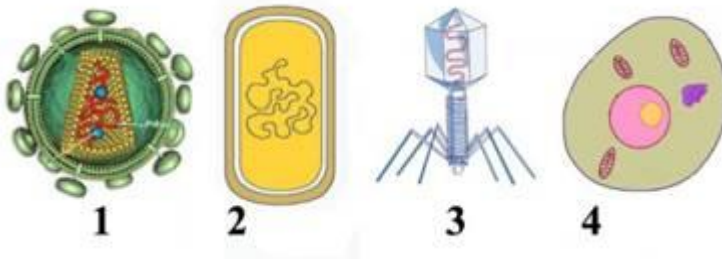
а) 1

б) 2

в) 3

г) 4

2. Какой цифрой обозначен вирус СПИДА?



а) 1

б) 2

в) 3

г) 4

3. Какая клетка видна на рисунке?



а) растительная

б) животная

в) бактериальная

г) грибная

4. Какой одноклеточный организм обладает способностью к пиноцитозу?

- а) бактерия б) амеба в) цианобактерия г) дрожжевой грибок

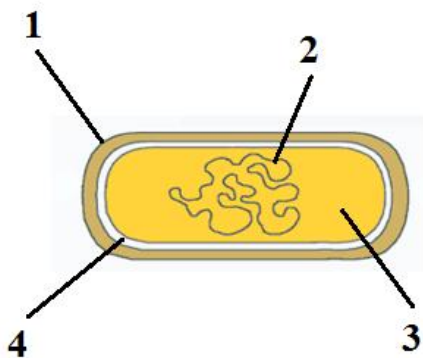
5. Слуховые рецепторы расположены:

- а) в слуховой трубе б) в улитке
в) в среднем ухе г) на овальном окне

6. Какую группу крови можно перелить пациенту с III группой?

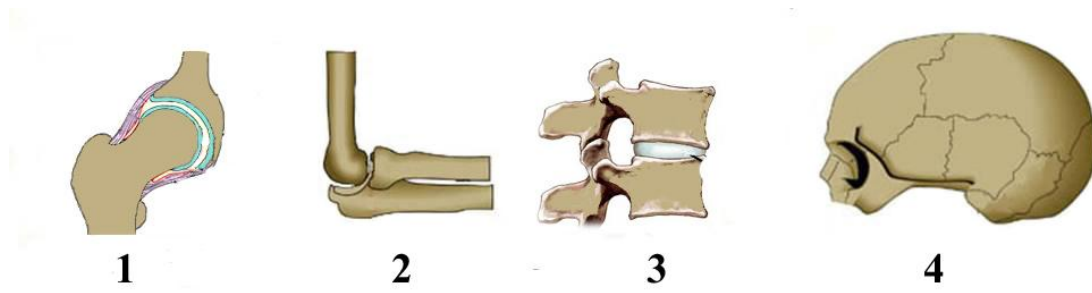
- а) Только I б) II и III в) I и III г) III и IV

7. Какой цифрой обозначена ДНК?



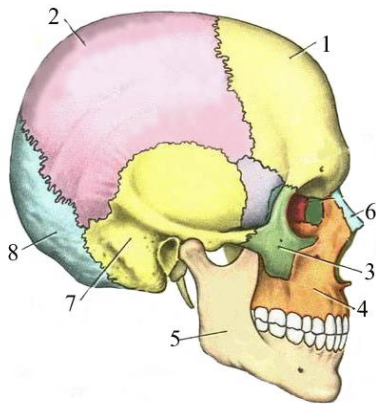
- а) 1 б) 2 в) 3 г) 4

8. Какие кости соединены неподвижно ?



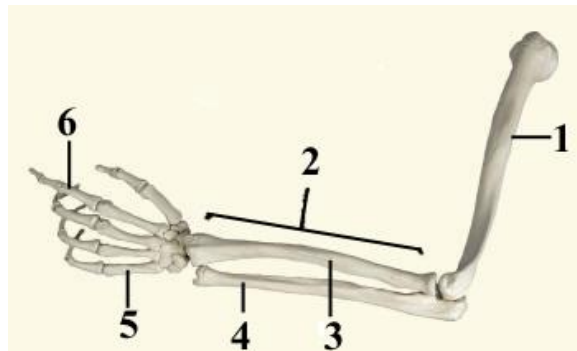
- а) 1 б) 2 в) 3 г) 4

9. Какой цифрой обозначены парные кости?



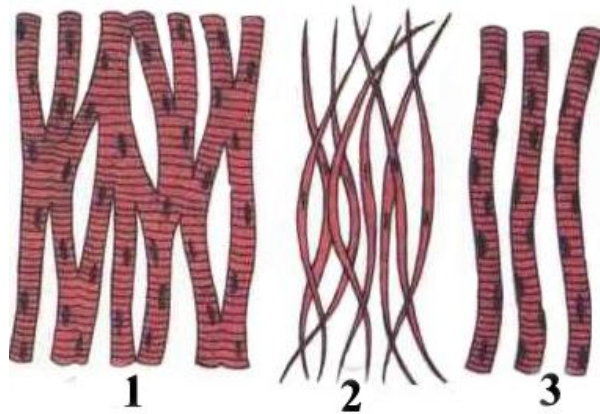
- а) 1 б) 2 в) 5 г) 8

10. Какой цифрой обозначена плечевая кость?



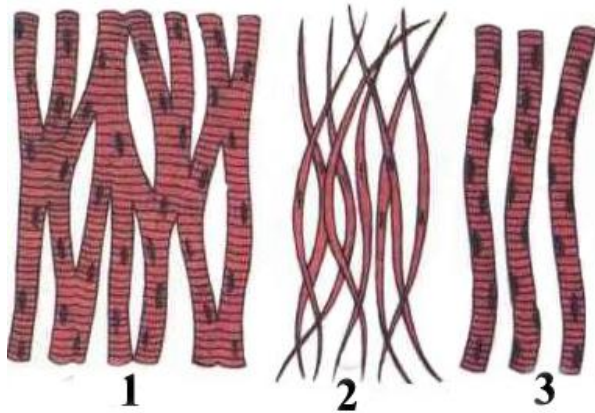
- а) 1 б) 2 в) 3 г) 4

11.Какая ткань видна на рисунке?



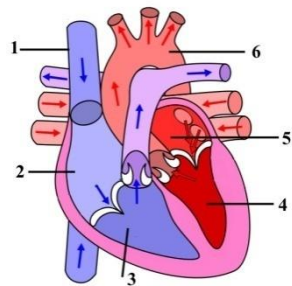
- а) нервная б) мышечная
в) эпителиальная г) соединительная

12. Какая из мышц скелетная?



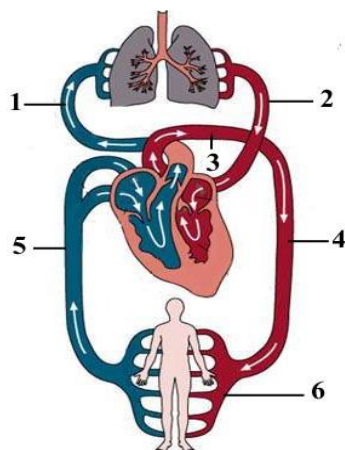
- а) только 1 б) только 2 в) только 3 г) 1 и 3

13. Какой цифрой обозначено правое предсердие ?



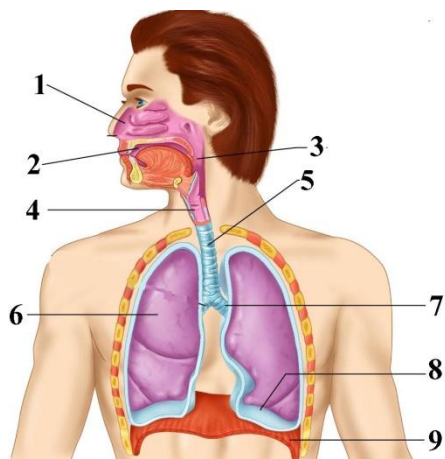
- а) 2 б) 3 в) 4 г) 5

14. Какими цифрами обозначены сосуды большого круга кровообращения ?



- а) 1 и 2 б) 2 и 4 в) 1 и 5 г) 5 и 6

15. Какой цифрой обозначена диафрагма ?



- а) 3 б) 4 в) 5 г) 9

16. Каким из перечисленных веществ осуществляется гуморальная регуляция дыхания?

- а) адреналином б) двуокисью углерода
в) кислородом г) инсулином

17. Какие сосуды имеют клапаны?

I – артерии II – вены

- а) I б) II в) оба г) Не один

18. Какая железа выделяет адреналин?

- а) поджелудочная б) надпочечник в) щитовидная г) печень

19. Из перечисленных клеточных органоидов мембрану не имеет:

- а) клеточный центр б) аппарат Гольджи
в) лизосома г) митохондрия

20. Равновесие регулируется:

- а) мозжечком б) продолговатым мозгом
в) средним мозгом г) промежуточным мозгом

	1	2	3	4	5	6	7	8	9	10	11	12	13	14	15	16	17	18	19	20
а		X	X							X			X						X	X
б				X			X		X		X					X	X	X		
в					X	X						X								
г	X							X						X	X					